

練習卷
經濟 試卷一

本試卷必須用中文作答
一小時完卷

考生須知

- (一) 細讀答題紙上的指示。宣布開考後，考生須首先於適當位置貼上電腦條碼及填上各項所需資料。宣布停筆後，考生不會獲得額外時間貼上電腦條碼。
- (二) 試場主任宣布開卷後，考生須檢查試題有否缺漏，最後一題之後應有「**試卷完**」字樣。
- (三) 本試卷各題佔分相等。
- (四) **本試卷全部試題均須回答**。為便於修正答案，考生宜用 HB 鉛筆把答案填畫在答題紙上。錯誤答案可用潔淨膠擦將筆痕徹底擦去。考生須清楚填畫答案，否則會因答案未能被辨認而失分。
- (五) 每題只可填畫一個答案，若填畫多個答案，則該題**不給分**。
- (六) 答案錯誤，不另扣分。

本試卷共 40 題。選擇每題中的最佳答案。

1. 沒有稀少性，
 - (1) 歧視不會存在。
 - (2) 市價不會存在。
 - (3) 物品不會存在。
 - A. 只有 (1)、(2)
 - B. 只有 (1)、(3)
 - C. 只有 (2)、(3)
 - D. (1)、(2) 及 (3)

2. 陳先生花了 \$5 000 購買一部新手提電話，該電話可在二手市場以 \$7 000 售出。陳先生保留該手提電話的成本是 _____。
 - A. \$0
 - B. \$2 000
 - C. \$5 000
 - D. \$7 000

3. 下列哪些有關利息的陳述是正確的？
 - (1) 利息是就延遲當時消費所收取的一個溢價。
 - (2) 在以物易物經濟中，利率並不存在。
 - (3) 利率下降會增加現時的消費。
 - A. 只有 (1)、(2)
 - B. 只有 (1)、(3)
 - C. 只有 (2)、(3)
 - D. (1)、(2) 及 (3)

4. 下列哪項對三類生產之間的關係的描述是正確的？
 - A. 第一級生產為其他類型的生產提供原材料。
 - B. 第二級生產毋須依賴第三級生產去製造完成品。
 - C. 第三級生產只依賴第一級生產。
 - D. 三類生產是獨立的，其中第三級生產為最重要。

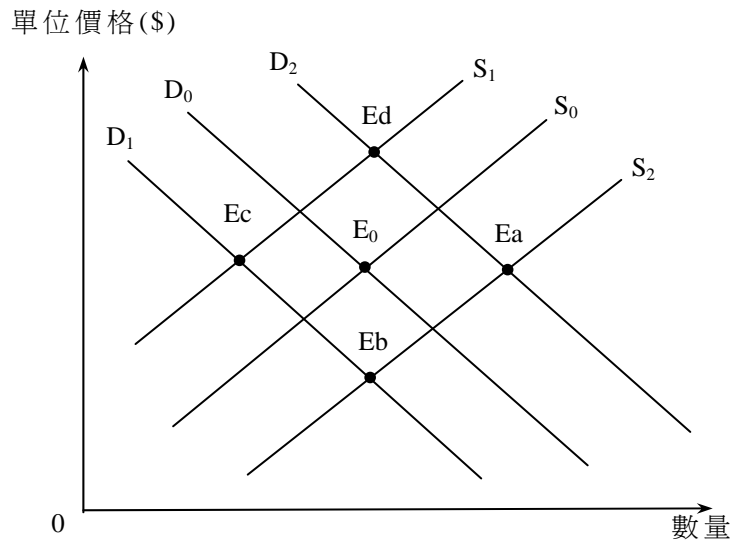
5. 下表顯示某廠商的月產量。該廠商只有兩種投入：機器和勞力。

機器（單位）	勞力（單位）	總產量（單位）
2	5	10
3	5	20
4	5	32
5	5	42
6	5	X

若邊際回報遞減定律適用於該廠商，X

- A. 必定小於 42。
 - B. 必定大於 42。
 - C. 可以等於 42。
 - D. 等於 52。
6. 某工人是以他所生產的產品數量計算工資而非領取月薪。下列哪項陳述是不正確的？
- A. 該工人傾向提高其產量。
 - B. 產出的質素傾向較低。
 - C. 監察該工人躲懶的成本減低。
 - D. 該工人的收入會增加。
7. 湯美和大衛將他們的公司由合夥轉成私人有限公司。下列哪項陳述是正確的？
- A. 他們工作意慾較高，因為利得稅稅率減低了。
 - B. 即使其中一個東主破產，公司仍可繼續存在。
 - C. 公司的規模會增加。
 - D. 公司的財政狀況須透露予公眾。
8. 增加煙草稅會導致
- A. 政府從香煙所徵收的稅款增加。
 - B. 吸煙人士對香煙的總支出增加。
 - C. 香煙總市值下降。
 - D. 香煙零售商除稅後的總收益下降。
9. 假設原油出口國政局不穩。結果，汽油的價格增加 30%，而汽油的交易量改變了 15%。我們可以得出結論如下：
- A. 汽油的需求屬高彈性。
 - B. 汽油的需求屬低彈性。
 - C. 汽油的供應屬高彈性。
 - D. 汽油的供應屬低彈性。

10. 在下圖中， E_0 是本港印刷書籍市場的起初均衡點。



假設閱讀電子書籍成為趨勢，而印刷用紙的價格上升。圖中新的均衡點會是_____。

- A. Ea
- B. Eb
- C. Ec
- D. Ed

11. 參閱以下物品 X 的需求表及供應表。

單位價格(\$)	20	18	16	14	12	10
需求量(單位)	500	550	600	650	700	750
供應量(單位)	800	750	700	650	600	550

若政府把配額由 700 單位減低至 550 單位，

- A. 市價會下跌\$2。
- B. 市價會上升\$2。
- C. 市價會上升\$4。
- D. 市價會上升\$6。

12. 以下是一間受價公司的總成本表。該公司的固定成本等於\$20。

數量 (單位)	總成本 (\$)
1	40
2	65
3	95
4	130
5	170

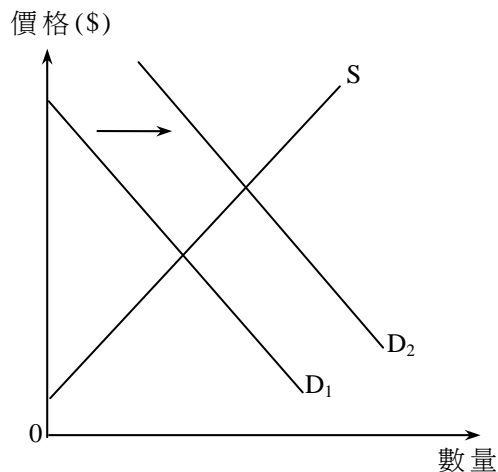
假設市價是\$35。在利潤極大化產出水平，該公司的利潤和總生產者盈餘分別是 _____ 和 _____。

- A. \$10 ... \$10
- B. \$10 ... \$30
- C. \$30 ... \$10
- D. \$30 ... \$30

13. 下列哪項與需求定律**並**不相符？

- A. 對成衣實施進口配額會令進口成衣的平均質素改善。
- B. 居住在偏遠地區的人士購買於市中心舉行的音樂會門票時，會傾向選擇較佳的座位。
- C. 增加失業援助金會推高失業率。
- D. 若每程的士徵收一定額的額外費用，短程乘搭次數下跌的百分率會小於長程乘搭次數下跌的百分率。

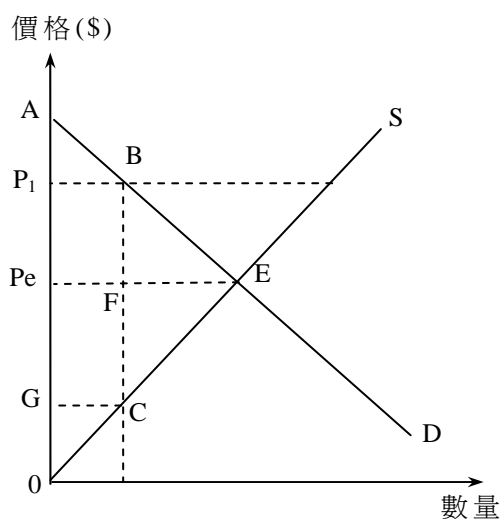
14. 下圖顯示在一個完全競爭市場內物品 X 的需求和供應曲線。



物品 X 的需求曲線由 D_1 移至 D_2 。結果，

- A. 公司享有較多的生產者盈餘。
- B. 生產最後一單位的邊際成本會下降。
- C. 物品 X 的供應會增加。
- D. 消費者享有較少的消費者盈餘。

15. 下圖顯示在一個完全競爭市場內物品 X 的需求和供應曲線。



假設價格下限設在 P_1 。結果，

- A. 效率損失 (deadweight loss) 等於面積 BEF。
- B. 生產者盈餘等於面積 P_1BC0 。
- C. 消費者盈餘等於面積 AEPe。
- D. 總社會盈餘等於面積 P_1BCG 。

16. 下列哪些是完全競爭市場的特徵？

- (1) 每間公司的邊際收益等於市價。
- (2) 賣家和買家掌握完全市場資訊。
- (3) 一間公司的邊際成本表與它的供應表相同。

- A. 只有 (1)、(2)
- B. 只有 (1)、(3)
- C. 只有 (2)、(3)
- D. (1)、(2) 及 (3)

17. 在下列哪些情況下，會達致經濟效率？

- (1) 消費者得到最大的總利益。
- (2) 所有潛在得益可以完全攫取。
- (3) 邊際社會利益等於邊際社會成本。

- A. 只有 (1)、(2)
- B. 只有 (1)、(3)
- C. 只有 (2)、(3)
- D. (1)、(2) 及 (3)

18. 下表顯示甲經濟由年份 1 至年份 4 的堅尼系數。

年份	堅尼系數
1	0.534
2	0.563
3	0.609
4	0.614

根據以上資料，下列哪項／些陳述是正確的？

- (1) 高收入住戶的收入增加，而低收入住戶的收入則減少。
- (2) 收入分布愈變不均。
- (3) 一般生活水準下降。

- A. 只有 (1)
- B. 只有 (2)
- C. 只有 (3)
- D. (1)、(2) 及 (3)

19. 下列哪項是有效的最低工資法最有可能帶來的影響？

- A. 收入分布會變得較平均。
- B. 工人的總工資收入會上升。
- C. 就業人口會增加。
- D. 非價格競爭會出現。

20. 下表顯示某經濟的統計數據。

本地生產總值成分	百萬（元）
私人消費支出	400
政府消費支出	250
本地固定資本形成淨額	300
存貨下跌	70
補貼	120
折舊	50
淨出口	300
海外收入淨值	80
直接稅	100

以生產要素成本計算的本地生產總值等於 _____ 百萬元。

- A. 1 250
- B. 1 270
- C. 1 350
- D. 1 490

21. 若某經濟的對外要素收益流動淨值（即海外收入淨值）為負數，這意味着該經濟的

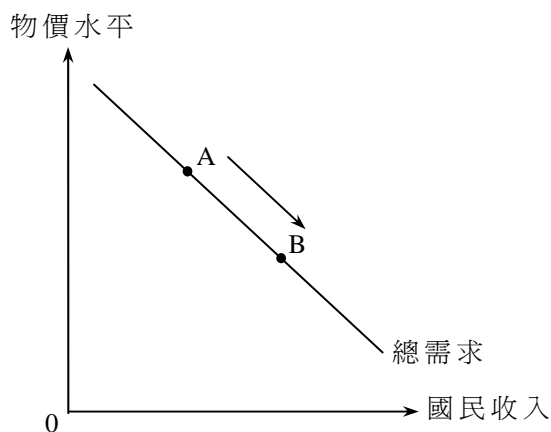
- A. 資本流入較資本流出為大。
- B. 總投資較淨投資為小。
- C. 國民生產總值較本地生產總值為小。
- D. 進口值較出口值為大。

22. 在一段時間內，某經濟以當時市價計算的本地生產總值增加 15%，而通脹率則由 10% 減至 5%。

根據以上資料，實質本地生產總值 _____，而一般物價水平 _____。

- A. 增加 ... 上升
- B. 增加 ... 下降
- C. 減少 ... 上升
- D. 減少 ... 下降

23. 參閱下圖。



下列哪項會導致沿着總需求曲線由 A 點移至 B 點？

- A. 物價水平下降
- B. 利率下降
- C. 減低薪俸稅
- D. 本地貨幣貶值

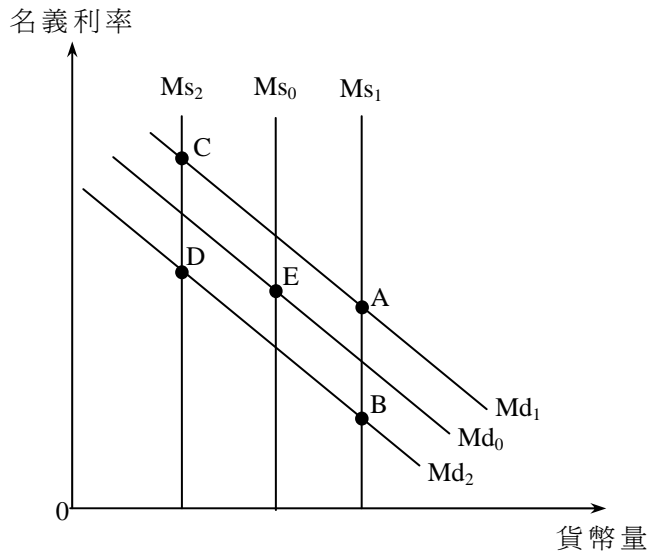
24. 大量油田因嚴重漏油意外需要關閉。短期而言，一石油輸入國的總供應會 _____，而該國的物價水平會 _____。

- A. 增加 ... 上升
- B. 增加 ... 下降
- C. 減少 ... 上升
- D. 減少 ... 下降

25. 下列哪項能解釋貨幣需求曲線向左移？

- A. 利率上升
- B. 住戶收入增加
- C. 人們更廣泛使用八達通卡
- D. 法定儲備比率增加

26. 下圖顯示某經濟的貨幣需求和貨幣供應曲線。起初的均衡點是 E。



假設國民收入增加而政府在公開市場購入債券。新的均衡點是 _____。

- A. A
- B. B
- C. C
- D. D

27. 假設某銀行體系的資產負債表如下。

資產(\$)		負債(\$)	
儲備	150	存款	500
貸款	350		

該銀行體系的超額儲備是\$50。現在一名客戶從他的銀行戶口提取\$50。若該銀行體系將可貸出款項全數借出，該銀行體系的貸款額最大為 _____。

- A. \$350
- B. \$400
- C. \$450
- D. \$500

28. 若陳先生從他在接受存款公司的戶口提取港幣 500 000 元，並將該筆款項匯給在加拿大的親人，香港的貨幣供應定義二（M2）會 _____ 而定義三（M3）會 _____。
- A. 減少 ... 減少
 - B. 維持不變 ... 維持不變
 - C. 減少 ... 維持不變
 - D. 維持不變 ... 減少
29. 若某一資產可以在短時間內輕易地轉為現金，並且不會招致損失，那麼它可被視為一種 _____ 的資產。
- A. 便攜
 - B. 耐用
 - C. 容易拆細
 - D. 流動
30. 當 _____ 正在上升，貨幣的實質價值下降。
- A. 通縮率
 - B. 一般物價水平
 - C. 貨幣需求
 - D. 名義利率
31. 當非預期通脹出現時，下列哪位人士會有損失？
- A. 一位銀行定期存款持有人
 - B. 一名政府債券持有人，而該債券利率隨通脹率調整
 - C. 一名正在償還固定息率按揭貸款的樓宇業主
 - D. 一名以黃金保存全部財富的億萬富翁
32. 下列哪項有助收窄通縮（產出）缺口？
- A. 法定儲備比率增加
 - B. 中央銀行在市場售賣債券
 - C. 政府支出增加
 - D. 撤銷進口關稅
33. 下列哪項有關古典貨幣量理論的陳述是不正確的？
- A. 貨幣流通速度和實質產出均假設為不變。
 - B. 貨幣供應的任何改變會導致名義產出產生同等比例的改變。
 - C. 當貨幣供應不斷下降時，通縮便會出現。
 - D. 物價水平的任何改變會導致貨幣供應產生同等比例的改變。

34. _____ 有所增加可能會抵銷擴張性貨幣政策對國民收入造成的影響。
- (1) 人們持有貨幣作為資產的意慾
 - (2) 人們的儲蓄意慾
 - (3) 轉移支付
- A. 只有 (1)、(2)
 - B. 只有 (1)、(3)
 - C. 只有 (2)、(3)
 - D. (1)、(2) 及 (3)
35. 當名義利率高於實質利率，預期通脹率必定
- A. 是正數。
 - B. 是負數。
 - C. 在上升。
 - D. 在下降。
36. 在香港，下列哪種稅項屬直接稅和比例稅？
- A. 酒店房租稅
 - B. 利得稅
 - C. 薪俸稅
 - D. 差餉
37. 稅務局會透過郵件或稅務易戶口通知每位薪俸稅納稅人應付的稅款總額。這項安排符合亞當史密夫所提出的 _____ 賦稅原則。
- A. 公平
 - B. 明確
 - C. 方便
 - D. 經濟
38. 若某小型開放經濟減低一進口物品的關稅，
- A. 該物品的本地生產量和消費量均會增加。
 - B. 關稅收益和進口量均會減少。
 - C. 消費者盈餘會增加，而生產者盈餘則會減少。
 - D. 該物品的全球價格會下跌，而總社會盈餘則會增加。

39. 假設甲、乙兩國只生產及消費物品 X 及物品 Y。若甲國比乙國可用較少資源生產一單位的物品 X，

- (1) 甲國生產物品 X 有絕對優勢。
- (2) 甲國生產物品 X 有相對優勢。
- (3) 乙國生產物品 Y 有絕對優勢。
- (4) 乙國生產物品 Y 有相對優勢。

- A. 只有 (1)
- B. 只有 (1)、(2)
- C. 只有 (2)、(4)
- D. (1)、(2)、(3) 及 (4)

40. 下表顯示甲、乙兩國每單位資源的產出：

	平板電腦（單位）	手提電話（單位）
甲國	8	12
乙國	10	30

若甲國出口 10 單位的平板電腦至乙國，以換取 25 單位的手提電話，甲國的貿易總得益是 _____ 單位的手提電話。

- A. 1
- B. 5
- C. 6.667
- D. 10

試 卷 完

練習卷
經濟 試卷二
試題答題簿

本試卷必須用中文作答
二小時完卷

考生須知

- (一) 宣布開考後，考生須首先在第1頁之適當位置填寫考生編號，並在第1、3、5、7、9及11頁之適當位置貼上電腦條碼。
- (二) 本試卷分為甲部、乙部及丙部。甲部和乙部試題均須回答。丙部任意選答一題。
- (三) 答案須寫在本試題答題簿中預留的空位內。不可在各頁邊界以外位置書寫。寫於邊界以外的答案，將不予評閱。
- (四) 如有需要，可要求派發補充答題紙。每一紙張均須填寫考生編號、填畫試題編號方格、貼上電腦條碼，並用繩縛於簿內。
- (五) 試場主任宣布停筆後，考生不會獲得額外時間貼上電腦條碼及填畫試題編號方格。

請在此貼上電腦條碼

考生編號

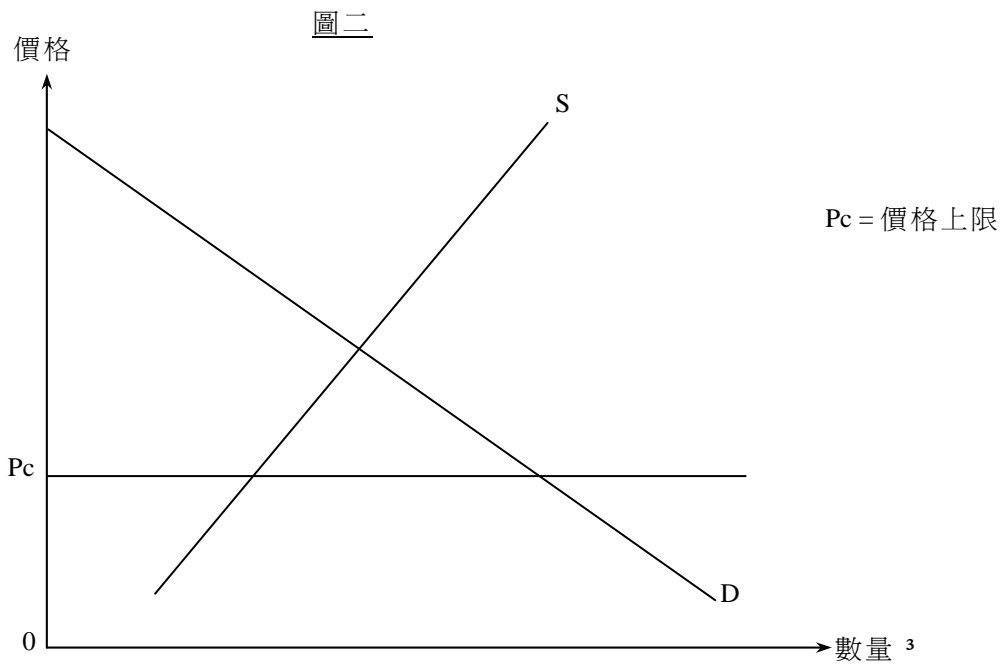
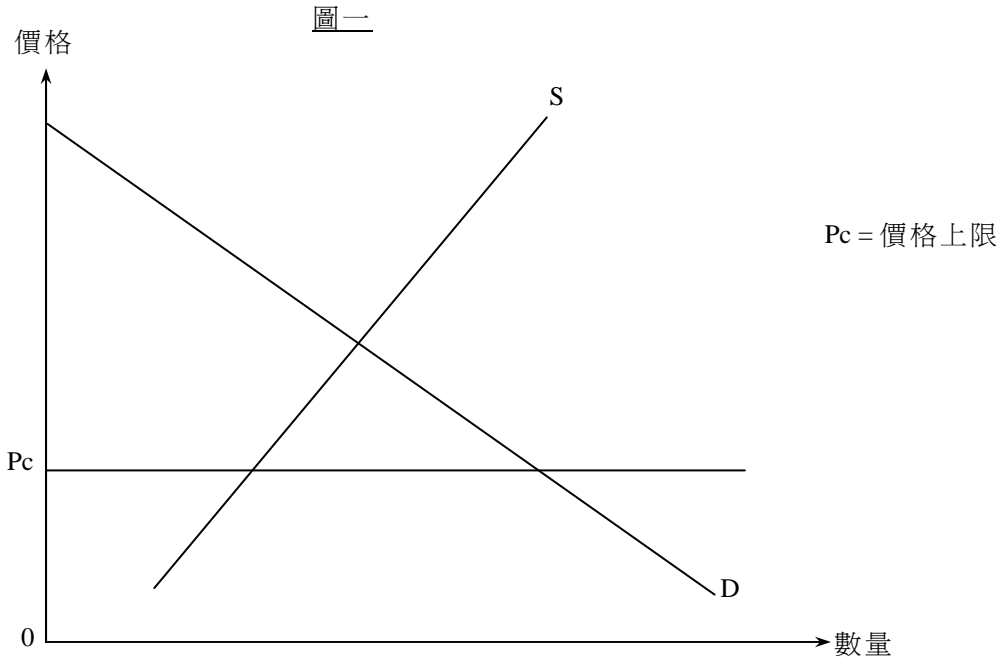
4. (a) 什麼是「效率損失」(deadweight loss)? (2分)

(b)

一位老師說：「有效的價格上限可能增加消費者盈餘。」
他的學生回答：「若是這樣，該價格上限可能提升經濟效率！」

(i) 你同意該老師的說法嗎？以圖一說明你的答案。(3分)

(ii) 你同意該學生的說法嗎？以圖二輔助，解釋你的答案。(5分)



寫於邊界以外的答案，將不予評閱。

寫於邊界以外的答案，將不予評閱。

寫於邊界以外的答案，將不予評閱。

請在此貼上電腦條碼

寫於邊界以外的答案，將不予評閱。

寫於邊界以外的答案，將不予評閱。

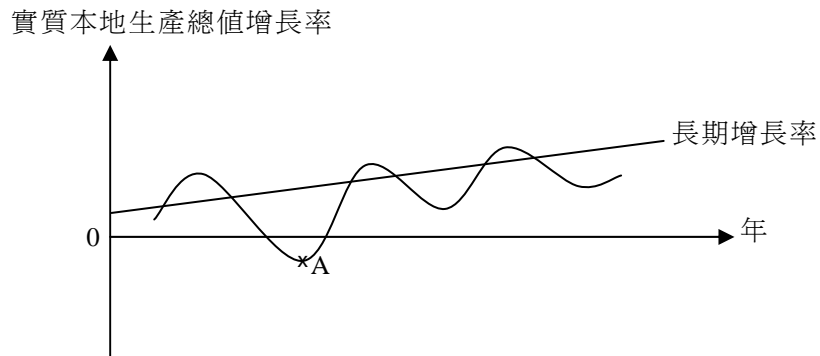
Large rectangular area with horizontal dashed lines for writing answers.

寫於邊界以外的答案，將不予評閱。

請在此貼上電腦條碼

7. 參考圖三的經濟周期。指出A點所在位置屬於經濟周期中哪一個時期。除了有關該時期實質本地生產總值增長率的描述外，舉出三項在該時期出現的一般經濟現象。 (4分)

圖三



寫於邊界以外的答案，將不予評閱。

寫於邊界以外的答案，將不予評閱。

8. 活期存款可被視為貨幣。解釋它能發揮哪兩項貨幣功能。 (4分)

寫於邊界以外的答案，將不予評閱。

請在此貼上電腦條碼

10. 假設美元兌歐元貶值。在聯繫匯率制度下，下列項目會如何受到影響？

- (a) 前往歐洲國家旅遊的香港遊客總數
- (b) 出口到歐洲的香港玩具的價格（以歐元計算）
- (c) 香港對進口歐洲汽車的總支出（以港元計算）

(3 分)

.....

.....

.....

.....

.....

.....

甲部完

寫於邊界以外的答案，將不予評閱。

寫於邊界以外的答案，將不予評閱。

寫於邊界以外的答案，將不予評閱。

請在此貼上電腦條碼

寫於邊界以外的答案，將不予評閱。

寫於邊界以外的答案，將不予評閱。

Large rectangular area with horizontal dashed lines for writing answers.

寫於邊界以外的答案，將不予評閱。

12. 於2010年11月，電子動態版清明上河圖在本港展出。600 000張門票透過城市電腦售票網售票處和互聯網發售，每張作價\$10。門票在短時間內售罄。很多市民投訴他們未能購得門票。

(a) (i) 以一供需圖說明上述現象。 (3分)

(ii) 建議兩項有助改善上述問題的措施，並以兩幅圖分別說明。 (6分)

(b) 有些人付出\$200從黃牛黨購買一張門票。

(i) 寫出上述個案中價格所發揮的功能。 (1分)

(ii) 「政府應該提高票價，從而杜絕黃牛黨。」評價這項建議。 (4分)

寫於邊界以外的答案，將不予評閱。

寫於邊界以外的答案，將不予評閱。

寫於邊界以外的答案，將不予評閱。

寫於邊界以外的答案，將不予評閱。

寫於邊界以外的答案，將不予評閱。

Large empty area with horizontal dashed lines for writing answers.

寫於邊界以外的答案，將不予評閱。

寫於邊界以外的答案，將不予評閱。

寫於邊界以外的答案，將不予評閱。

Large empty area with horizontal dashed lines for writing answers.

寫於邊界以外的答案，將不予評閱。

14. 下表顯示某經濟的銀行體系的資產負債表：

資產（百萬元）		負債（百萬元）	
儲備	1 000	存款	4 000
貸款	3 000		

假設這經濟的公眾總是持有500百萬元現金，而該銀行體系從不持有超額儲備。

- (a) 計算該經濟的貨幣基礎和貨幣供應量。 (2 分)
- (b) 假設中央銀行把銀行體系的最低儲備比率降低5%。
 - (i) 解釋該經濟的貨幣基礎是否有所改變。 (2 分)
 - (ii) 計算新的貨幣供應量。列出你的計算步驟。 (4 分)
- (c) 根據貨幣數量論，解釋上述貨幣供應量的改變長期而言如何影響一般物價水平。 (4 分)

寫於邊界以外的答案，將不予評閱。

寫於邊界以外的答案，將不予評閱。

寫於邊界以外的答案，將不予評閱。

寫於邊界以外的答案，將不予評閱。

寫於邊界以外的答案，將不予評閱。

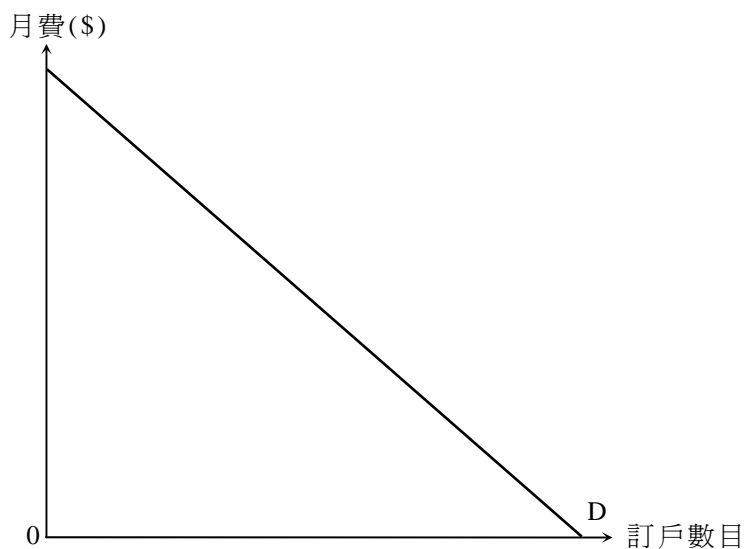
乙部完

寫於邊界以外的答案，將不予評閱。

丙部 (16分) 選答一題。

15. 某收費電視頻道花了一大筆金錢購買獨家播映權，可於一季內獨家轉播一項國際體育賽事。
- (a) 假設購買獨家播映權的支出是該收費電視頻道在提供該廣播服務方面的唯一成本。圖五顯示申請收看上述體育節目的市場需求。

圖五



- (i) 以圖五輔助，解釋該收費電視頻道在劃一價格安排下會如何定價，從而賺取最大利潤。 (5分)
- (ii) 「就該節目所收取的價格會導致缺乏經濟效率。」你同意嗎？加以解釋。 (3分)
- (b) 假設在推廣申請收看該節目期間，該收費電視頻道只向新客戶而不向現有客戶提供折扣優惠。
- (i) 解釋上述做法是否構成價格分歧。 (4分)
- (ii) 其他免費無線廣播機構不獲准轉播有關賽事。有人批評這安排缺乏競爭。提出**兩項**理由以支持實施競爭政策。 (4分)

.....

.....

.....

.....

.....

.....

寫於邊界以外的答案，將不予評閱。

寫於邊界以外的答案，將不予評閱。

寫於邊界以外的答案，將不予評閱。

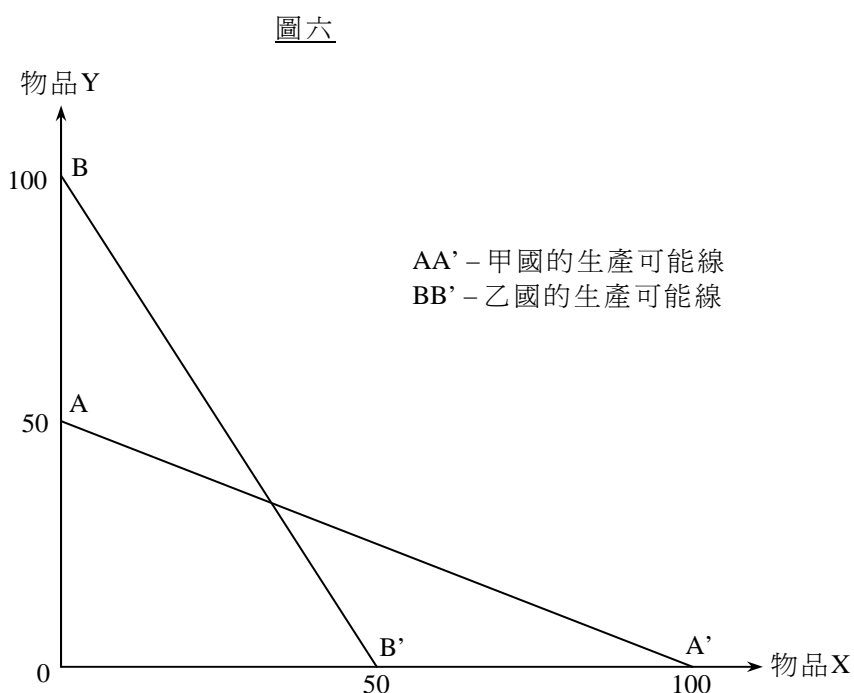
寫於邊界以外的答案，將不予評閱。

寫於邊界以外的答案，將不予評閱。

Blank writing area with horizontal dashed lines.

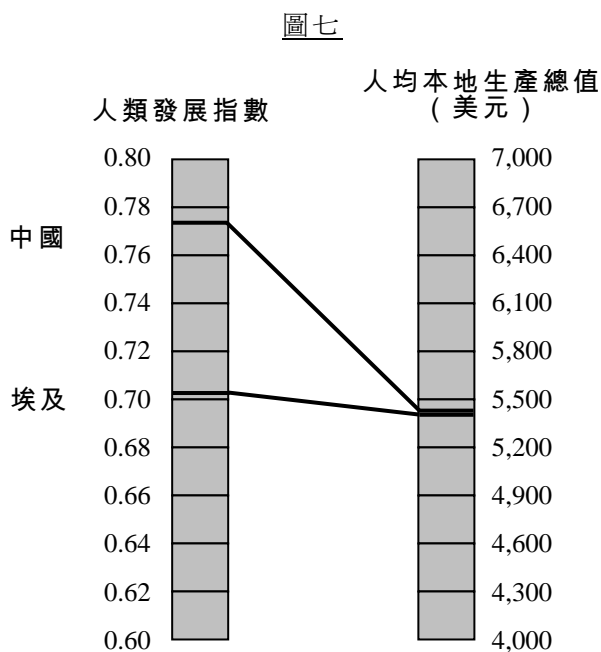
寫於邊界以外的答案，將不予評閱。

16. (a) 圖六顯示甲國和乙國的生產可能線。



- (i) 解釋甲國生產物品X是否有絕對優勢。 (2分)
- (ii) 假設兩國均根據自己的比較優勢而進行完全專門化生產。已知貿易比率是 $1X = 1Y$ ，在圖六畫出甲國和乙國的生產點和消費可能線。 (4分)
- (iii) 根據你在(ii)項的答案，解釋兩國是否均能從貿易中獲益。 (2分)

(b) 圖七顯示中國和埃及於2009年的人類發展指數和人均本地生產總值。



寫於邊界以外的答案，將不予評閱。

寫於邊界以外的答案，將不予評閱。

寫於邊界以外的答案，將不予評閱。

補充答題紙

試題號數：_____

Large rectangular area with horizontal dashed lines for writing answers.

寫於邊界以外的答案，將不予評閱。

寫於邊界以外的答案，將不予評閱。

寫於邊界以外的答案，將不予評閱。

補充答題紙

試題號數：_____

Large rectangular area with horizontal dashed lines for writing answers.

寫於邊界以外的答案，將不予評閱。

寫於邊界以外的答案，將不予評閱。

寫於邊界以外的答案，將不予評閱。

補充答題紙

試題號數：_____

Large rectangular area with horizontal dashed lines for writing answers.

寫於邊界以外的答案，將不予評閱。

寫於邊界以外的答案，將不予評閱。

寫於邊界以外的答案，將不予評閱。

鳴謝 Acknowledgements

本專輯的試題曾引用下列刊物 / 網站的資料：

Material from the following publications/web-sites has been used in question papers in this volume:

United Nations Human Development Reports
Development Programme http://hdrstats.undp.org/en/countries/country_fact_sheets/cty_fs_CHN.html

專輯內試題引用的資料，蒙有關出版社／機構准予使用，本局深表感銘。倘當中引用的資料有未及取得版權持有者同意，或因未悉其來源而有牴觸版權之處，祈為鑒諒。

本局已盡一切努力追溯資料的來源，如有因資料來源錯漏而導致牴觸版權的情況，懇請有關的版權持有者聯絡本局，以便作出適當的安排。

The Authority is grateful to publishers/organisations for permission to include in the question papers material from their publications. We apologise for any infringement of copyright in respect of material printed in this volume, for which permission has not been obtained in time or for which the sources could not be traced.

Every effort has been made to trace copyright. However, in the event of any inadvertent infringement due to errors or omissions, copyright owners are invited to contact us so that we can come to a suitable arrangement.