

經濟 試卷二

試題答題簿

本試卷必須用中文作答

兩小時三十分完卷(上午十時十五分至下午十二時四十五分)

考生須知

- (一) 宣布開考後，考生須首先在第1頁之適當位置填寫考生編號，並在第1、3、5、7、9及11頁之適當位置貼上電腦條碼。
- (二) 本試卷分為甲部、乙部及丙部。甲部和乙部試題均須回答。丙部只須選答一題。
- (三) 答案須寫在本試題答題簿中預留的空位內。不可在各頁邊界以外位置書寫。寫於邊界以外的答案，將不予評閱。
- (四) 如有需要，可要求派發補充答題紙。每一紙張均須填寫考生編號、填畫試題編號方格、貼上電腦條碼，並用繩縛於簿內。
- (五) 試場主任宣布停筆後，考生不會獲得額外時間貼上電腦條碼及填畫試題編號方格。



甲部 (44分)

1. 某國正考慮通過填海取得更多土地，以興建住宅單位。解釋在以下情況，填海的機會成本會否改變：

(a) 由於技術原因，在填海所得土地上興建的樓宇限高兩層。 (2分)

(b) 填海造地所需的材料出現短缺。 (3分)

a) 不會，由於填海的機會成本是利於填海的資源用作其他最有價值用途的價值。而技術原因，令到填海本身的價值下降，因此並沒有影響填海的機會成本。

b) 機會成本是會上升。由於填海的材料出現短缺，因此填海材料的市場價格會出現上調的壓力，因此某國政府要付出更高的金錢成本以獲得材料。故此，填海的金錢成本上升，其機會成本亦上升。

寫於邊界以外的答案，將不予評閱。

寫於邊界以外的答案，將不予評閱。

寫於邊界以外的答案，將不予評閱。

2. 李嘉誠基金以「善用錢」計劃的名義，向在元朗、屯門及離島區居住並應考 2018 年香港中學文憑考試的每名考生無條件發放 5000 元現金。

陳述 A：該計劃可以改善這些地區考生的公開考試成績。

陳述 B：該計劃可以令香港更公平。

(a) 解釋陳述 A 是否一項實證性陳述。

(b) 論證陳述 B。

考生的 這亦有改善 (2分)
a) 是，因為陳述 A 中，[✓]考試成績[✓]可以被事實推翻，並且沒有涉及個人的價值判斷。 (4分)

b) 首先，公平是一個主觀的概念。
而發放 \$5000 可以有助結果均等化。由於 \$5000 佔元朗等地區低收入人士的收入比例較高收入人士的比例高，因此 \$5000 令到，低收入人士與高收入人士之間的收入差距收窄，有助結果均等化。

第二，發放 \$5000 有助機會均等化。\$5000 可以令到低收入家庭的考生去補習或進修，從而提升公開考試成績，有助將來批高收入，以達致與高收入人士與低收入人士的收入差距減少。

寫於邊界以外的答案，將不予評閱。

寫於邊界以外的答案，將不予評閱。

寫於邊界以外的答案，將不予評閱。

3. 舉出香港一家公營公司的例子。就所舉例子，提出由公營公司而非私營企業提供該服務的兩個好處。 (3分)

考評局，第一，可以令到考生以較低的金錢進行考試。

第二，令到考生可應考的科目選擇增加，不會因為私人企業為賺取更多的利潤，以削減部份較少人報考的科目。

4. 接受疫苗注射是防止感染流感病毒及保護自己的一個有效方法。運用界外影響的概念，解釋為什麼政府對接種季節性流感疫苗提供補貼可能會改善經濟效率。 (4分)

由於市民不接受疫苗注射會導致其他感染的機會上升，而該市民又不會因感染他人而作出補償。因此出現界外成本，在這產量下，邊際社會成本會高於邊際社會成本，從而出現效率損失。而為疫苗提供補貼令到邊際社會利益上升，有效率的產量與實際的產量之間的差距收窄，令到社會的潛在得益進一步被擷取，從而改善經濟效率。

寫於邊界以外的答案，將不予評閱。

寫於邊界以外的答案，將不予評閱。

寫於邊界以外的答案，將不予評閱。

5. 王氏一家和陳氏一家是鄰居。寫出以下每項安排所涉及的一個經濟概念，並解釋為什麼該安排對兩個家庭有利。

(a) 王先生教兩家的孩子英語，而陳太太則教他們日語。 (3分)

(b) 在平安夜，這兩家人一起購買食材和煮食，而不是每個家庭各自購買和煮食。 (3分)

a) 分工，由於知人善任，因此王先生與陳太太可以就對方的長處以教育孩子，令到孩子得益兼文化。

b) 規模經濟，兩個人一起購買食材較高機會獲得食材的折扣，令到食材的平均成本較各自購買食材低。

另外，一起煮食令到可以較各自煮食更容易進行分工，以導致更有效率。

寫於邊界以外的答案，將不予評閱。

寫於邊界以外的答案，將不予評閱。

寫於邊界以外的答案，將不予評閱。

6. 細閱表 1 及表 2，然後回答以下問題。

表 1：綜合消費物價指數 (CCPI) 的變化

2016 年	2017 年
+2.3%	+1.7%

+6%

表 2：每小時的最低工資率

2016 年	2017 年
\$32.5	\$34.5

3.3

2.7

- (a) 根據表 1，指出在 2017 年一般物價水平的變化。 (1 分)
- (b) 2017 年 1 月 1 日，小強預計該年 CCPI 的變化是 +2.3%，並以 5% 年利率將一筆款項借給潔文。2017 年 12 月 31 日，潔文連本帶利把錢還給小強。參考表 1，解釋小強會得益還是會損失。 (3 分)
- (c) 潔文一直按每小時的最低工資率領取工資。參考表 1 及表 2，解釋在 2017 年她的實質工資率會如何轉變。 (3 分)

a) 一般物價水平的變化 = +1.7% //

b) 名義利率 = 實際利率 + 預期通脹率

小強是得益，由於小強的預期的通脹率為 +2.3%，因此令到他的預期的實際回報 = (5% - 2.3%) = 2.7%。但是 2017 年的實際通脹率為 +1.7%，因此令到實際的實際回報 = (5% - 1.7%) = 3.3%。故此，實際的實際回報大於預期的實際回報，因此他是得益。

c) 2017 年名義工資的改變百分比 = $\frac{34.5 - 32.5}{32.5} \times 100\%$
= +6%

因此，實際工資率的改變 = 6% - 1.7%
= +4%

所以她的實質工資率上升了 4% //

寫於邊界以外的答案，將不予評閱。

寫於邊界以外的答案，將不予評閱。

寫於邊界以外的答案，將不予評閱。

寫於邊界以外的答案，將不予評閱。

寫於邊界以外的答案，將不予評閱。

7. 以下是某銀行系統的資產負債表。

資產 (百萬元)		負債 (百萬元)	
儲備	300	存款	1000
貸款	700		

假設法定儲備比率是 20%，而公眾持有 200 百萬元現金。

(a) 計算該銀行系統的超額儲備。 (1分)

(b) 假設公眾不再持有現金，而全部銀行借出所有超額儲備。計算貨幣供應的最大可能轉變。列示你的計算。 (4分)

$$\begin{aligned} \text{a)} \quad \text{超額儲備} &= (300 - 1000 \times 20\%) \text{ 百萬元} \\ &= 100 \text{ 百萬元} \end{aligned}$$

$$\begin{aligned} \text{b)} \quad \text{儲備改變} &= +200 \text{ 百萬元} \\ \text{最大可能存款改變} &= (200 \times \frac{1}{0.2}) \text{ 百萬元} \\ &= 1500 \text{ 百萬元} \end{aligned}$$

$$\begin{aligned} \text{貨幣供應改變} &= (-200 + 1500) \text{ 百萬元} \\ &= 1300 \text{ 百萬元} \end{aligned}$$

寫於邊界以外的答案，將不予評閱。

8. 甲國的資源是乙國的兩倍。兩國均分配一半的資源生產汽車，另一半生產玩具。以下是兩國的總產出：

	汽車 (單位)	玩具 (單位)
甲國	100	100
乙國	100	60

(a) 解釋乙國生產汽車是否享有

- (i) 絕對優勢。
- (ii) 比較優勢。

(5分)

(b) 假設交易比率是以 5 單位汽車交換 4 單位玩具。計算汽車進口國進口 10 單位汽車時的貿易得益。列示你的計算。

(3分)

(a) 是，絕對優勢是指，某國能以較小的^{資源}生產較多或相同的物品總數或以相同的資源生產較多的物品總數。而由於乙國用的資源為甲國的一半，但依然生產相同數量的汽車，因此乙國有生產汽車的絕對優勢。

(i) 甲國生產一單位汽車的機會成本 = $\frac{100}{100}$ 玩具
= 1 玩具

乙國生產一單位汽車的機會成本 = $\frac{60}{100}$ 玩具

乙國有比較優勢，甲國 = 0.6 玩具

由於乙國能以較低^的機會成本生產一單位的汽車，因此乙國會專門生產及出口汽車。

(b) 交易比率 = 5 汽車 = 4 玩具 1 汽車 = 0.8 玩具或

1 玩具 = 1.25 汽車
甲進口 10 汽車的貿易得益 = $[(1 - 0.8) \times 10]$ 玩具
= 2 玩具

甲部完

寫於邊界以外的答案，將不予評閱。

寫於邊界以外的答案，將不予評閱。

寫於邊界以外的答案，將不予評閱。

乙部 (60分)

9. 歐愛美小姐是香港選美冠軍。她以在社交媒體網站展示化妝品的使用示範短片而聞名。她也在自己的網站售賣日本化妝品。

(a) 在社交媒體網站上的短片屬共用品，還是私用品？試加以解釋。(3分)

(b) 除了日本化妝品，她開始在其網站售賣韓國化妝品。這屬哪類擴張？舉出這類擴張的兩個可能原因。(3分)

她打算聘請兩名員工營運她的網站：

私人助理	短片設計師
職務： 安排每天日程和會議	職務： 製作上傳至社交媒體的短片
薪金： 每月 12 000 元	薪金： 每段短片 1 000 元

(c) 從歐愛美小姐的角度，舉出該私人助理的支薪方法的一個優點和一個缺點。(2分)

(d) 從僱員的角度，舉出該短片設計師的支薪方法的一個優點和一個缺點。(2分)

a) 共用品，這些短片不涉及競爭性，因為當人們觀看這些短片時，並不會減少別人觀看相同短片的机会。

另外不涉及排他性，因為無法阻止其他人觀看這些短片，或其阻止的成本高昂。

b) 橫向擴張。第一，增加她在化妝品市場的存在感。第二，分散不同化妝品產品的投資風險。

c) 優點 = 計算私人助理薪金的成本較低。
缺點 = 管理私人助理工作時的成本會較高。

d) 在僱員角度，優點：短片設計師能為勞資行，從而提升短片設計師的收入。

缺點：收入不穩定，在工作量較少時，其收入

寫於邊界以外的答案，將不予評閱。

寫於邊界以外的答案，將不予評閱。

寫於邊界以外的答案，將不予評閱。

會下降。

寫於邊界以外的答案，將不予評閱。

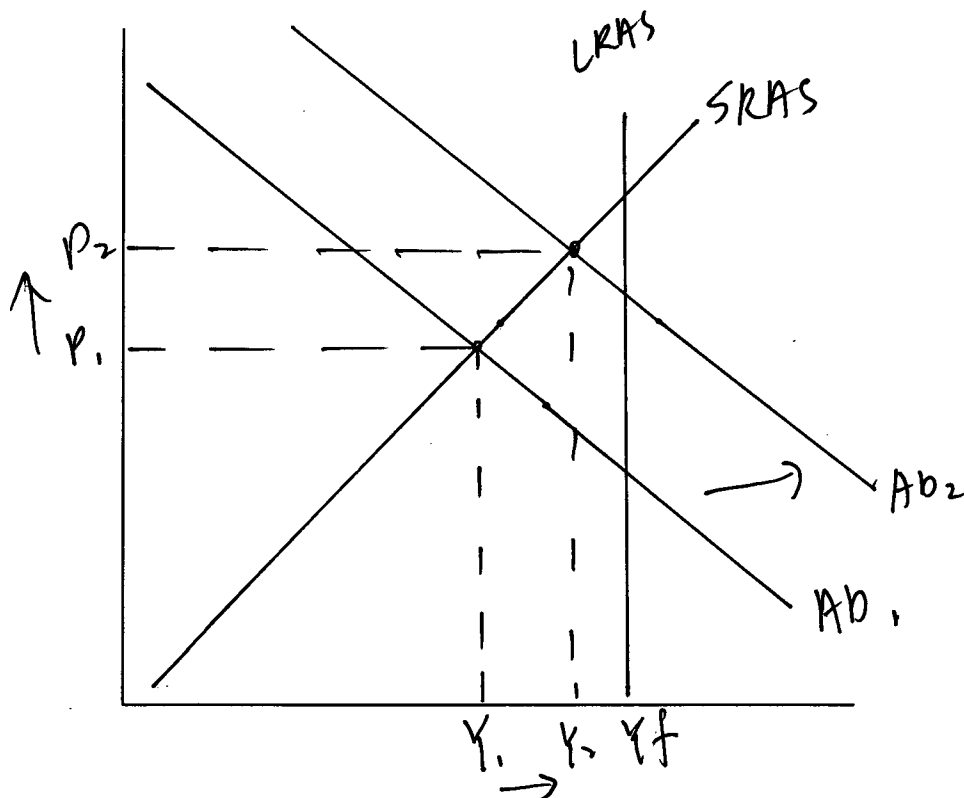
寫於邊界以外的答案，將不予評閱。

寫於邊界以外的答案，將不予評閱。

10. 下表顯示由 2018 年十月起生效的中國個人入息稅制的改變。

平均稅率	每月應課稅收入範圍，以人民幣 (RMB) 計算	
	舊稅階	新稅階
3%	少於或等於 1500	少於或等於 3000
10%	1501 - 4500	3001 - 12000
20%	4501 - 9000	12001 - 25000
25%	9001 - 35000	25001 - 35000
30%	35001 - 55000	不變
35%	55001 - 80000	不變
45%	多於 80000	不變

- (a) 中國的個人入息稅屬累進稅、比例稅還是累退稅？解釋你的答案。 (2分)
- (b) 假設中國經濟出現通縮（產出）差距。以一幅總供需圖輔助，解釋以上個人入息稅制的改變會如何在短期影響該通縮（產出）差距。 (7分)
- (c) 為達至與 (b) 部對通縮（產出）差距相同的影響，一位經濟學家建議政府應降低銀行的法定儲備比率而非實施上述的稅制改變。提出**正反論點各一**以討論該建議。 (4分)



寫於邊界以外的答案，將不予評閱。

寫於邊界以外的答案，將不予評閱。

寫於邊界以外的答案，將不予評閱。

寫於邊界以外的答案，將不予評閱。

a) 累進稅，因為當市民的收入上升時，平均稅率亦隨之上升。

b) 由於入息稅改變，令到低至中收入人士課稅減少，令到他們的可支配收入上升，總消費增加，從而總需求上升，一般物價水平及總產出增加，在短期內，實際產出與潛在產出的差距被收窄，因此通縮差距被舒緩。

c) 正：由於減少入息稅會令到政府的收入下降，相反，減低銀行的法定儲備率會到達與 b) 部相同的結果，而又不會因此而減少政府的稅收。

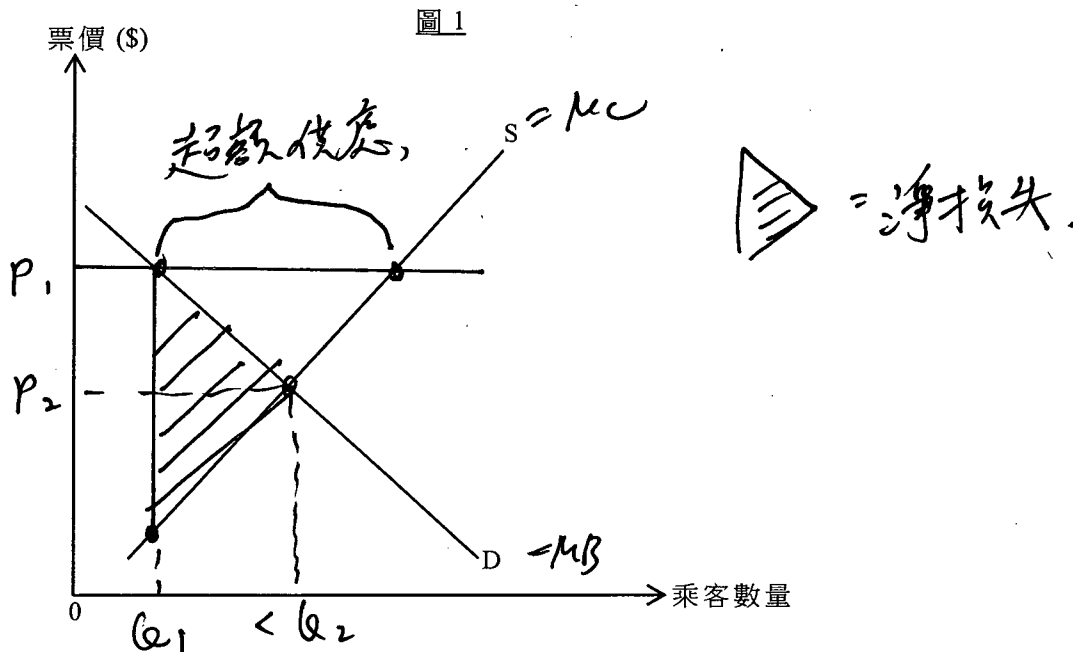
反：由於減低銀行的法定儲備率會令到貨幣供應上升，而根據貨幣數量論，當貨幣供應上升時，一般物價水平會上升相同的百分比，從而形成一個惡性的通脹。

寫於邊界以外的答案，將不予評閱。

寫於邊界以外的答案，將不予評閱。

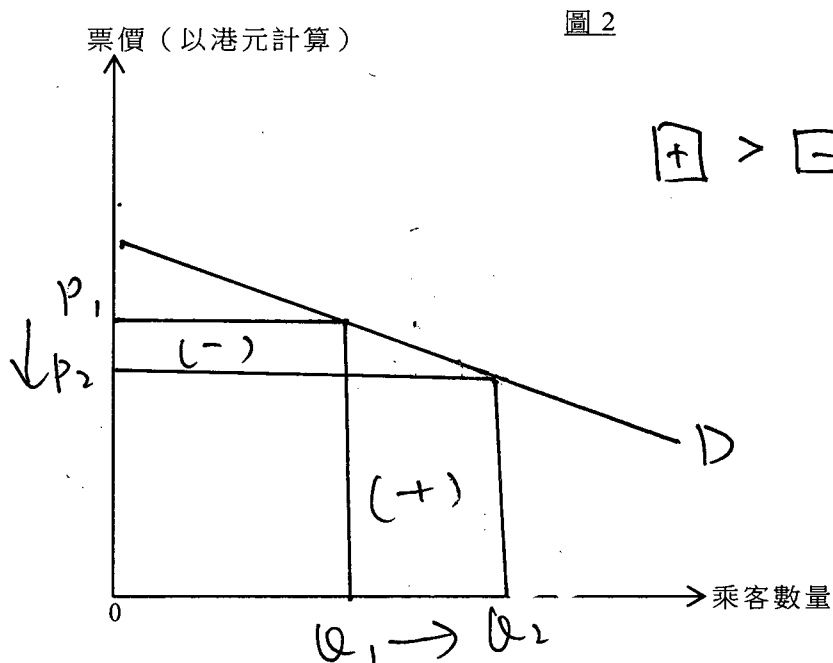
11. 廣深港高速鐵路（高鐵）在 2018 年 9 月啟用。

- (a) 解釋高鐵啟用對本港勞工流動性的影響。 (3分)
- (b) 在非假日時段，部分高鐵列車有很多的空置座位。以圖 1 輔助，解釋為什麼上述情況可能缺乏效率。 (4分)



假設高鐵的票價以人民幣計算是固定的。在香港出售的高鐵車票價格（以港元計算）會跟隨人民幣兌港元的匯率而調整。

- (c) 「人民幣兌美元貶值會引致在香港出售的高鐵車票的總收入（以港元計算）上升。」以圖 2 輔助，解釋在什麼條件下，這項陳述會是正確的。 (8分)



寫於邊界以外的答案，將不予評閱。

a) 增加勞工的地域流動性，高鐵啟用後，勞工到其它地區工作的成本複雜度下降。

b) 由於在空置座位，反映出高鐵價格在均衡價格上，而其實際產出低於有效率的產出在 Q_c 產量下，邊際成本高於邊際收益，因此潛在收益未被完全擷取，從而令到淨損失出現，效率出現損失。


c) 由於美元與港元為一聯繫匯率的關係。因此人民幣對美元貶值，即為港元對人民幣升值，因此車價以固定的人幣計算，所以以港元計算下，車票的價值下降，而交易量上升。若港人對車票的需求屬高彈性，車票價格下降的百分比會少於交易量上升的百分比，從而車票的總收入會上升，該陳述才學在該條件下正確。

12. 中國和美國在 2018 年爆發貿易戰。

資料 A：貿易戰主要發展圖示

2018 年 4 月：

美國計劃向價值 500 億美元的從中國進口的物品徵收 25% 關稅。



2018 年 4 月：

中國計劃向價值 500 億美元的從美國進口的物品徵收 25% 關稅。



2018 年 7 月：

美國計劃對 2000 億美元的中國進口物品清單開徵額外 10% 關稅，其後會增加至 25%。

2018 年 7 月：

中國計劃向來自美國的產品（價值 600 億美元）徵收額外的報復性關稅。

寫於邊界以外的答案，將不予評閱。

寫於邊界以外的答案，將不予評閱。

資料 B：香港轉口物品統計





轉口	物品價值	
	2017 年整體轉口	受貿易戰關稅影響的轉口
由內地至美國	2775 億港元	1366 億港元 (涵蓋 2500 億美元中國貨品的兩輪關稅)
由美國至內地	732 億港元	117 億港元 (涵蓋 500 億美元美國貨品的首輪關稅)
總值	3507 億港元	

寫於邊界以外的答案，將不予評閱。

資料 C：美國——香港政策法撮要

美國在經濟和貿易事宜將香港和中國分開處理。

資料 D：對中美貿易戰的一些看法

<p>國際貨幣基金組織的一位代表</p> 	<p>人們對全球兩個最大的經濟體的雙邊磨擦感到非常憂慮。</p>
<p>某香港貿易公司的一位東主</p> 	<p>SPAS↓ I↓ AD↓</p> <p>由於公司出口到美國的產品被徵收關稅，我的生意正在虧本！若貿易戰持續下去，我要想想辦法了！</p>
<p>一位經濟學者</p> 	<p>X↓</p> <p>中美貿易糾紛無可避免地影響香港的失業率。</p>
<p>本港股票市場的一位投資者</p> 	<p>I↓</p> <p>貿易戰開打至今，恒生指數下跌了超過 20%。若特朗普在貿易方面繼續對中國採取強硬態度，他會令我輸很多錢。</p>

寫於邊界以外的答案，將不予評閱。

寫於邊界以外的答案，將不予評閱。

- (a) 參考資料 A。美國徵收關稅背後的一個可能原因是要減少美國對中國的貿易赤字。
- (i) 在一幅供需圖上，標示在貿易戰期間出口到美國的中國物品總市場價值（扣除關稅後）的轉變。 (3分)
(提示：為了簡化，關稅可假設為從量。)
- (ii) 解釋為什麼美國**未必**能成功縮小對中國的貿易赤字。 (3分)
- (b) 參考資料 B 及 C。「由於香港所生產的物品**不受**貿易戰所增加的關稅約束，香港的總出口**不受**影響」。你同意這項陳述嗎？試加以解釋。 (3分)

考生須以短文形式回答 (c) 部。評分準則包括運用資料及經濟理論、內容切題、鋪排合乎邏輯、以及表達清晰。

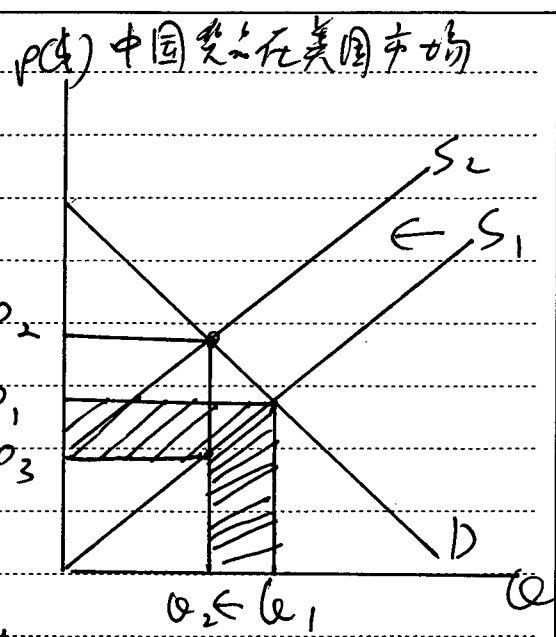
- (c) 參考以上各項資料並就你對經濟學的認識，討論該貿易戰對香港的影響，包括：
- 總產出
 - 稅收
 - 其他的經濟變量（可多於一項）

(13分)

寫於邊界以外的答案，將不予評閱。



a1) 由於在資料A中指出，中國亦對美國實行免稅，(A1) 因此美國出口至中國的總值(除稅後)亦會減少。若美國對中國進口及出口的總值下降相同，貿易赤字會依然存在。



~~b) 不同意，由於轉口亦包括在總出口之內，而中國與美國以香港為中間人，因香港不受免稅約束，因此兩國在香港的轉口上升，令到總出口增加。~~

~~b) 不同意，雖然香港不受免稅約束，但是香港的轉口價值是已包括在總出口內。而由於美中兩國貿易戰提高免稅，令到美中兩國出口兩地的價值下降(除稅後)，因此兩國對出口產品的供應下降。而香港作為一轉口地，兩國在香港為轉口貨品會減少，令到香港的轉口價值下降，令到總出口減少。~~

c) 首先，在總產出方面，由於中美兩國的貿易戰影響。兩國利用香港轉口的貨品款項減少，從而令到香港的總出口減少，淨出口亦因而下降，導致香港的總需求減少，總產出下降。

另外，根據資料D中，部份的貿易公司出口到美國的產物被徵收免稅，從而令到他們

寫於邊界以外的答案，將不予評閱。

寫於邊界以外的答案，將不予評閱。

寫於邊界以外的答案，將不予評閱。

陳航收的收入減少，利潤下降。若某國公司因
而無法負擔虧損的查數，他們會離開市場，
令到香港的短期供應減少，總產出從而減少。
而且，由於公司的利潤下降，投資者對投
資的意願會因此而減少，令到經濟的總投
資減少，總需求下降，導致總產出下降。

綜合以上中美貿易戰對香港總產出的影響，
大多都會令到總產出減少。

其次，在政府稅收上，由於中美貿易戰
令到香港的總產出下降，而勞工為香港生產的
衍生需求，因此部份勞工會失業，令到香港
的新僱稅收有減少的趨勢。

而且，在按揭D中，部份公司都在虧本，
令到公司的利潤下降。從而香港的利得稅因
按照公司的利潤而計算，因此，香港在利
得稅方面的稅收也會下降。

最後，在失業率上，根據資料B及D中，
轉口的價值下降，令到香港的總產出減少，
而勞工則為增加產出的衍生需求，因此，
產出減少，令到對勞工的需求下降。而本地
勞力供應下降，失業人口上升，從而令到香港
的失業率上升。

而且，由於資料D中，公司在虧本，從而為
了減低公司的成本，而令到部份員工進入失
業的行列，令到失業率上升。

寫於邊界以外的答案，將不予評閱。

寫於邊界以外的答案，將不予評閱。

乙部完

寫於邊界以外的答案，將不予評閱。

丙部 (16分) 選答一題。

13. 葡萄有限公司是某國唯一的智能電話生產商。它採取單一定價。

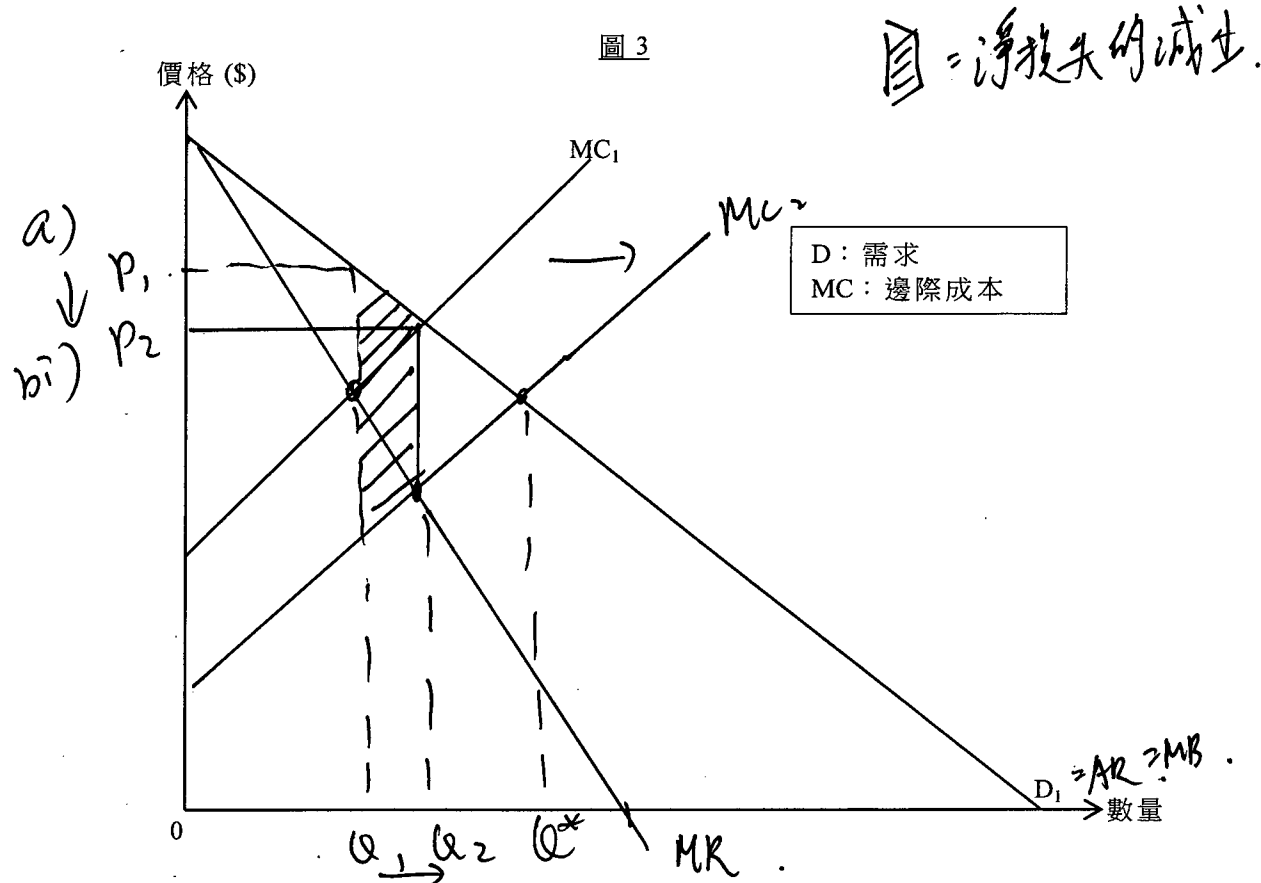


圖 3 顯示葡萄有限公司智能電話的市場。

- (a) 解釋利潤極大化的產量和價格是如何決定的。在圖 3，以 Q_1 和 P_1 分別標示該產量和價格。 (4分)
- (b) 科技進步令智能電話的電子零件成本下降。
- (i) 在圖 3，以 Q_2 及 P_2 分別標示新的產量和價格。
- (ii) 以圖 3 輔助，討論上述轉變對效率的影響。 (5分)
- (c) 葡萄有限公司向學生售賣智能電話，提供 30% 折扣。
- (i) 解釋為什麼這做法會構成價格分歧。
- (ii) 舉出這種價格分歧可以實施的兩個條件。 (4分)
- (d) 檸檬公司是智能電話作業系統的其中一家主要供應商。它要求所有智能電話須預先安裝其網絡瀏覽器作為授權使用其作業系統的條件。寫出檸檬公司涉及反競爭行為的名稱。指出該種行為會對消費者造成的兩種損害。 (3分)

寫於邊界以外的答案，將不予評閱。

寫於邊界以外的答案，將不予評閱。

捆

寫於邊界以外的答案，將不予評閱。

b) 电子零件成本下降，令到生产商的边际成本上升，而价格会下降，而产量上升。而在 Q_1 产量会更接近有效率的产量 (Q^*)，而在 Q_2 下，边际成本与边际利益的差距被收窄，潜在的得益进一步地被榨取，令到净损失减少，更接近效率。

(ii) 由於葡萄有限公司在向學生售賣電話時，提供 10% 折扣。因此，葡萄有限公司以相同的電話產品，對學生與非學生人士，以不同的價格出售，而其電話的價格差異並非由電話的生產成本不同所致。

(i) 第一，要具備分隔市場的能力，以及出現消費者以較低價格購買再轉售他人的情況出現。

第二，葡萄有限公司要能以較低的成本以獲得不同消費者對該產品的需求彈性。

A) 捆束銷售。第一，會令到消費者對互聯網瀏覽器的認知及選擇變得單一。

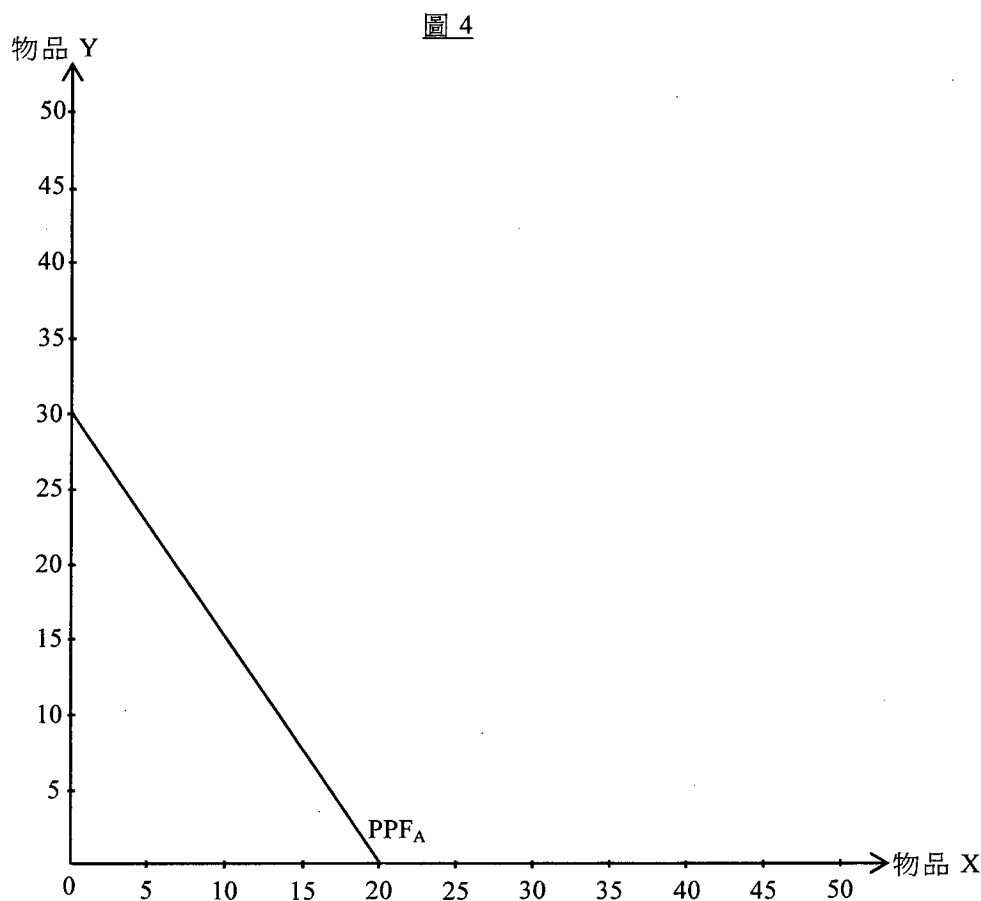
第二，若消費者並不喜歡使用該瀏覽器，則會令到對使用該智能電話的價值下降；令到消費者使用該手機的預期價值相比，則會出現虧損。

寫於邊界以外的答案，將不予評閱。

寫於邊界以外的答案，將不予評閱。

寫於邊界以外的答案，將不予評閱。

14. 圖 4 顯示甲國的生產可能線 (PPF_A)。



假設原初每單位物品 X 的國際價格是 2 單位的物品 Y。

(a) 若甲國參與國際貿易，解釋甲國會出口哪種物品。 (2分)

假設甲國參與國際貿易，而它總是消費 10 單位的物品 X。

(b) 以圖 4 輔助，計算甲國的總貿易得益。 (5分)

(c) 在圖 4 標示甲國的出口量和進口量。 (2分)

物品 X 的國際價格持續下跌。

(d) 解釋貿易方向是否必然維持不變。 (3分)

甲國的領導人決定採取一項門戶關閉政策，禁止對外貿易、外國遊客到訪和外國工人在甲國工作。

(e) 解釋為什麼甲國的經濟增長會變差。 (2分)

(f) 除了有關經濟增長的原因，解釋為什麼甲國的經濟發展會變差。 (2分)

寫於邊界以外的答案，將不予評閱。

寫於邊界以外的答案，將不予評閱。

寫於邊界以外的答案，將不予評閱。

寫於邊界以外的答案，將不予評閱。

寫於邊界以外的答案，將不予評閱。

試卷完

本試卷所引資料的來源，將於香港考試及評核局稍後出版的《香港中學文憑考試試題專輯》內列明。

寫於邊界以外的答案，將不予評閱。

評語

該考生：

- 能夠提供經濟學名詞精確的定義和解說、又能廣泛而準確地應用經濟學概念：例如第 1 題。
- 能夠將經濟學名詞、概念、關係及理論融會貫通地加以運用：例如在第 2 題、第 5 題及第 9 題。
- 能夠就廣泛的經濟議題、政府政策及其影響作出全面且合乎邏輯的經濟分析：例如第 3 題、第 4 題、第 11(a) 題及第 13(c)、(d) 題。
- 能夠從不同角度出發，作出有識見的判斷並全面評價各種論點、建議及政策：例如第 10(c) 題和第 12(a)(ii)、(b) 題。
- 能夠在經濟分析中精確及全面地運用數學工具和繪圖技巧：例如第 10(b) 題、第 11(b)、(c) 題、第 12(a)(i) 題和第 13(a)、(b) 題的圖及第 6 題、第 7 題和第 8 題的計算。
- 與人交流時能夠廣泛地、精確地及條理井然地使用經濟學用語及說明的例子來解釋各種經濟議題及政府政策：例如第 12(c) 題。